



S.S. Divine School



Pre – Primary , Primary, Secondary & Higher Secondary
Opp.Science City, Sola M : 70693 11011
E-Mail :ssdivineschool2015@gmail.com

Std : 2st (G.M)

Term End Evaluation Examination-2020

Date : 30/12/2020

Sub : Maths

Roll no : _____

Name : _____

Marks : 25

Question No.	1	2	3	4	5	Total	Teacher's sign
Obtained Marks							

પ્રશ્ન-1 ગણતરી કરીને ખાલી ખાનાં પૂરો :

[05]

[1] $36 = \underline{\quad} + 6$

[2] $\underline{\quad} = 80 + 2$

[3] $40 = 40 + \underline{\quad}$

[4] $63 = \underline{\quad} + \underline{\quad}$

[5] $69 = \underline{\quad} + \underline{\quad}$

પ્રશ્ન-2 જોડકા જોડો

[05]

૪૮ • • ૧૦ + ૭

૯૨ • • ૫૦ + ૪

૧૭ • • ૯૦ + ૨

૫૪ • • ૨૦ + ૪

૨૪ • • ૪૦ + ૮

પ્રશ્ન-3 નીચે આપેલા અંક માટે $10 = \square$ તથા $1 = \triangle$ લઈ દોરો.

[05]

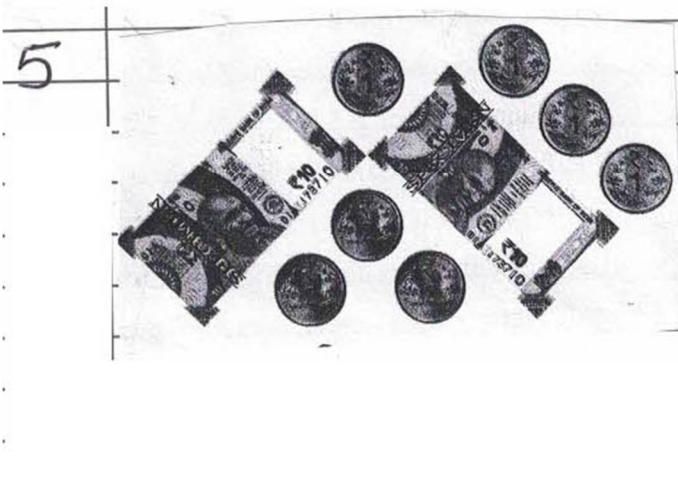
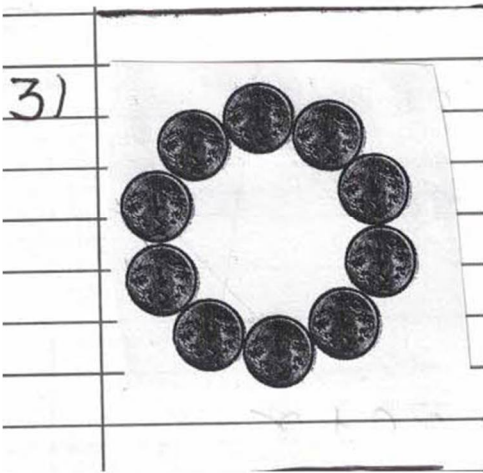
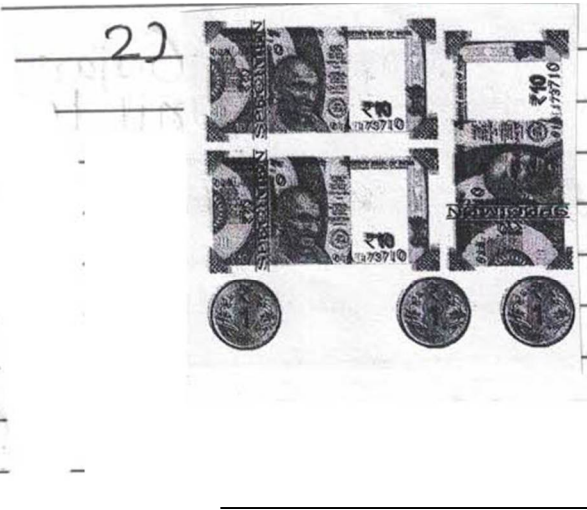

[1] $35 =$ _____

[2] $48 =$ _____

[3] $96 =$ _____


[4] $59 =$ _____

[5] $24 =$ _____



પ્રશ્ન-5 નીચે આપેલા રૂપિયામાંથી માગ્યા મુજબની વસ્તુઓ ખરીદવા દુકાનદારને કેવી રીતે રૂપિયા ચૂકવશો ?

[05]



(1) ૩૦ રૂપિયા ની પેન : - _____

(2) ૩૨ રૂપિયા ની પેન : - _____

(3) ૬૩ રૂપિયા ની પેન : - _____

(4) ૫૨ રૂપિયા ની પેન : - _____

(5) ૧૫ રૂપિયા ની પેન : - _____